

به نام خدا

دبستان عباس سعید ۲

پایه دوم

آزمون مداد کاغذی ریاضی

نام آموزگار:

تاریخ: ۱۴۰۱/۱۰/۵

نام و نام خانوادگی:

..... و ..... و ..... و ۱۱ و ۸ و ۵

۱. پسر، الگوهای عددی زیر را ادامه بده.

..... و ..... و ..... و ۲۹ و ۱۹ و ۹

۲. پسر عزیزم، جواب جمع و تفریق زیر را بصورت تقریبی به دست بیاور.

$$45 \rightarrow \dots\dots$$

$$73 \rightarrow \dots\dots$$

$$\begin{array}{r} 45 \\ + 29 \\ \hline \end{array} \rightarrow \dots\dots$$

$$\begin{array}{r} 73 \\ - 29 \\ \hline \end{array} \rightarrow \dots\dots$$

۳. امین ۶۴ شکلات داشت. او ۱۸ شکلات را به خواهرش داد. حالا امین چند شکلات دارد؟ (به

روش فرآیندی)


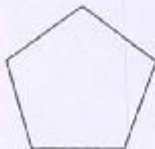
جزوه سیپتی

۴. پسر عزیزم، جمع و تفریق زیر را بصورت فرآیندی انجام بده.


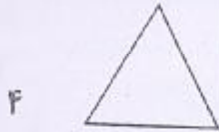
$$\begin{array}{r} 49 \\ + 25 \\ \hline \end{array}$$

$$\begin{array}{r} 84 \\ - 37 \\ \hline \end{array}$$

۵. پسر، خط های تقارن شکل های زیر را بکش.

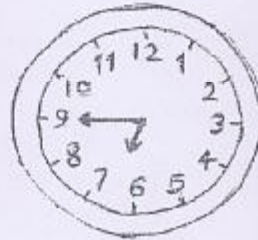


۶. پسر، شکل های زیر را به قسمت های مساوی تقسیم کن. تعداد قسمت ها در کنار آن ها



نوشته شده است؟

۷. پسر، زمانی را که هر ساعت نشان می دهد، به دو صورت بنویس.



۸. پسر، زمانهای داده شده را روی ساعت نشان بده.



۴:۵۵




ساعت ۹



۸:۱۰

۹. پسر، شباهت و تفاوت دو شکل روبرو را بنویس.



شباهت:

تفاوت: